

Karta pracy

Klasa 2 - styczeń - blok 1 - dzień 3

### Zadanie 1

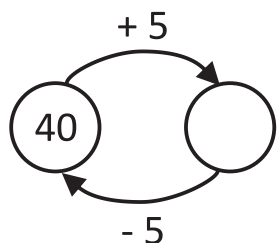
Uzupełnij logogryf.



30-30=							Z	E	R	O				
30-25=						P	I	Ę	Ć					
20-3=		S	I	E	D	E	M	N	A	Ś	C	I	E	
							O							
							W							
							Y							
							Z							
							W							
							Y							
							C							
							Z							
							A							
							J							

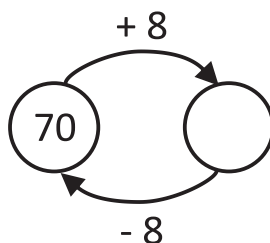
### Zadanie 2

Uzupełnij grafy i odpowiadające im działania.



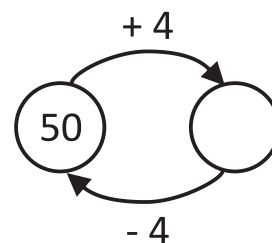
$$40 + 5 = \square$$

$$45 - 5 = \square$$



$$70 + 8 = \square$$

$$\square - 8 = \square$$



$$50 + 4 = \square$$

$$\square - \square = \square$$

Karta pracy

Klasa 2 - styczeń - blok 1 - dzień 3

Zadanie 3  
Wykonaj działania:

$$70 + 6 =$$

$$76 - 6 =$$

$$40 + 4 =$$

$$44 - 4 =$$

$$50 + 5 =$$

$$55 - 5 =$$

$$30 + 7 =$$

$$37 - 7 =$$

